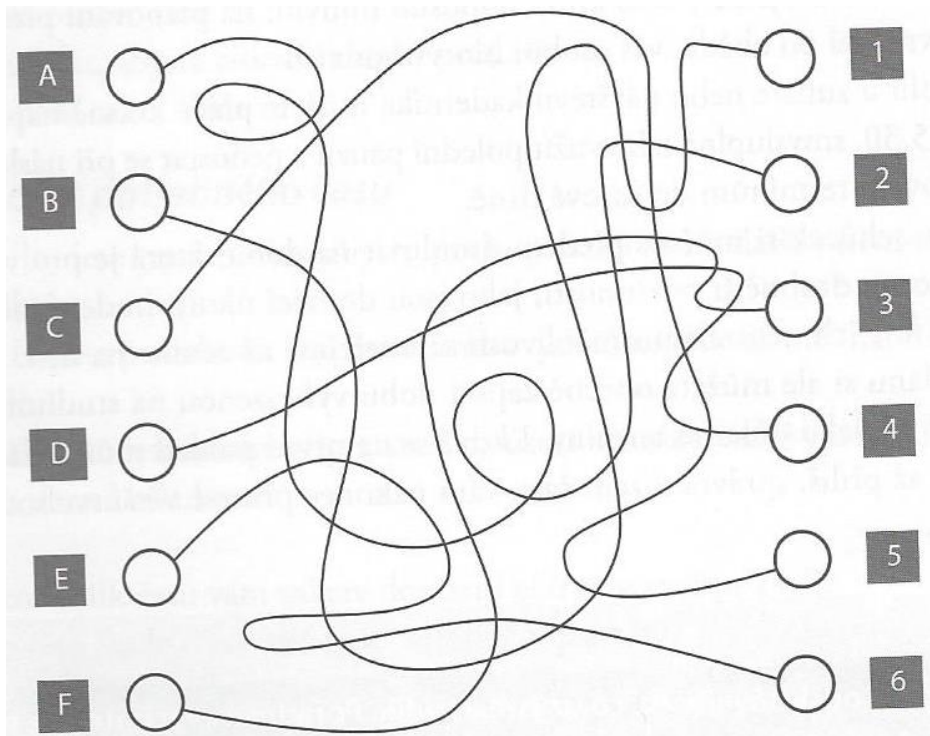


KVÍZ K PODPOŘE MYŠLENÍ, LOGIKY A PAMĚTI / online III.

1. Seřadte písmena tak, aby vznikla slova, která dávají smysl. Pak odpovězte na otázku: Které slovo neoznačuje část těla?

- ONAH
- KAUR
- ÚAST
- HOCU
- AVSL
- PTRU
- AOKZ

2. Pokuste se pouhým okem rozpoznat, které písmeno je spojeno s jakým číslem. Máte na to jednu minutu.



3. Z následujícího rčení byly vypuštěny všechny samohlásky. Dokážete je správně nahradit?

DLTKZLZHRDNKM

.....

4. Doplněním chybějících písmen získáte starý český vojenský vynález.

. O . O . Á . R . D . A

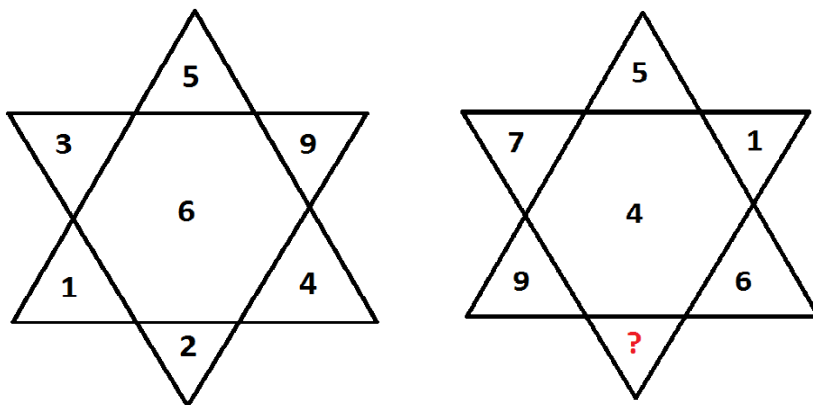
5. Pomocí následujících čtyř písmen vytvořte šestipísmenné slovo.

A P N M

6. Máte 10 pytlů zlaťáků. Jeden z Vašich sluhů, kteří měli na starost přepravu peněz, Vás chtěl okrást, a v jednom z pytlů z každé mince, která normálně váží 10 gramů, 1g zlata upiloval. Máte digitální váhy (dáte na ně předmět a oni ukáží, jakou má hmotnost). Dokážete na jedno vážení určit, který pytel obsahuje lehčí mince a tedy, kterého sluhu máte vyhodit?

7. Starý a už trochu roztržitý profesor měl tři dcery. Na otázku, jak jsou staré, odpověděl takto: „Nejsem si tím docela jist. Nejmladší je buď Alena, nebo Markéta. A nevím ani, která je nejstarší. Víím jen, že buď je Alena nejstarší, nebo Lucie nejmladší.“ Ještě že věděl, kolik jich má, protože nic nesnižuje mužovo sebevědomí tolik jako nejistota co do počtu potomstva. Seřadte dívky podle stáří

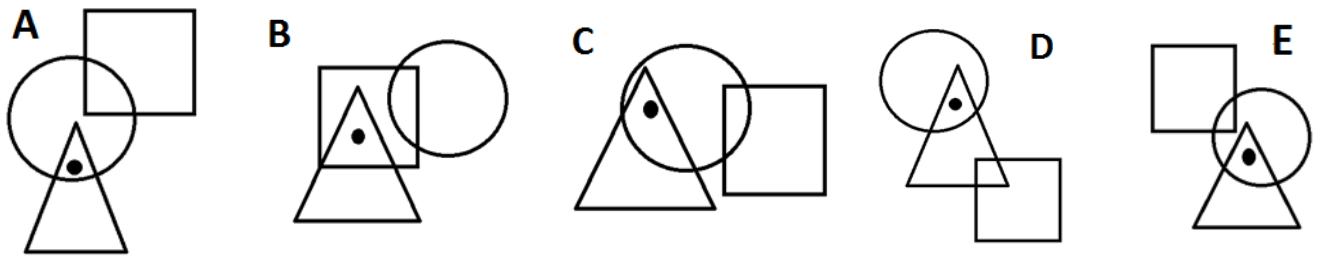
8. Jaké číslo by mělo nahradit otazník?



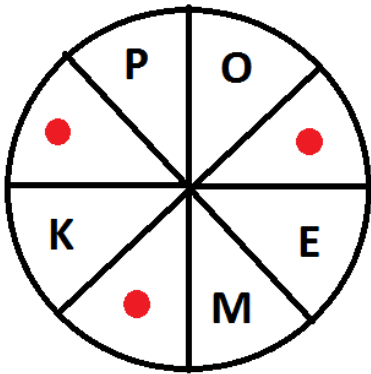
9. Přeložte následující vědecká tvrzení do srozumitelného tvaru. Získáte tak známé české přísloví.

Donace individua rodu Equus neopravňuje akceptora k vizuální percepci dentální soustavy tohoto jedince.

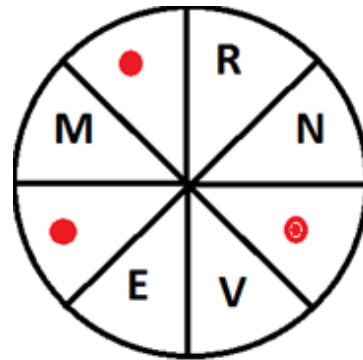
10. Který obrázek zde nepatří a proč?



11. Doplněním chybějících písmen získáte v každém kruhu osmipísmenná slova, která jsou navzájem významově protichůdná. Slova čtete ve směru hodinových ručiček.



.....



.....

12. Jaký měsíc bude následovat místo otazníku?

leden

únor

duben

červenec

listopad

duben

říjen

?

.....

13. Doplněte do citátů chybějící písmena

„_ě_dy_i_ž_t_j_s_a_e_ným_č_n_m.“

Seneca

.....

14. Stavebním slohy

– E – E – A – C –

– L – – I – I – M U –

S – C – S –

– O – I – A

E – – I –

15. Za jakou nejkratší dobu opečete tři topinky, když se na pánvičku vejdou jen dvě najednou a jedna strana se peče 30 sekund.

.....

16. Dokážete najít řešení?

Vesničan se vrací z trhu domů. Má sebou kozu, vlka a v ruce hlávkou zelí. Najednou přišel k řece. Na břehu má přivázanou malou loď. Už chce nasednout, když tu ho náhle dobrá nálada opouští. Důvodem zhoršení nálady je, že se do té lodičky všechno naráz nevejde. A když tu nechá vlka samotného, vlk sní kozu. Když tu nechá kozu, ta sní zelí. Jak dostane vlka, kozu i zelí na druhou stranu? Do loďky se mu vejde jen jedna věc. A na žádném z břehů nesmí nechat samotného vlka s kozou nebo kozu a zelí.

.....

.....