

## KVÍZ K PODPOŘE MYŠLENÍ, LOGIKY A PAMĚTI / online IV. odpovědi

### 1. Z podstatných jmen tvořte slovesa. Použijte pouze písmena daná v podstatném jménu.

TOČNA	NATOČ
ZÁTKA	KÁZAT
TLAPKA	PLAKAT
PILOT	TOPIL
PAVEL	PLAVE
TROUBA	BOURAT
TITUL	TULIT
PLAVEC	VECPAL
VOZIDLO	ODVOZIL

### 2. V níže uvedeném citátu se pomíchala písmenka. Dokážete je správně seřdit a citát přečíst tak, aby dával smysl?

*eNičum se jenda valdá od drhué neačnuí hcleryji než uěmni thatz pkaes dliíneízpe.*

Adam Smith

***Ničemu se jedna vláda od druhé nenaučí rychleji než umění tahat z kapes lidí peníze.***

Adam Smith

### 3. Labyrint písmen – Najdete název státu? Víte jaké je jeho hlavní město?

Y	N	I	V
O	P	N	O
Ř	B	Í	O
E	Ž	S	L

**POBŘEŽÍ SLONOVINY - YAMOUSSOUKRO**

#### 4. Které menu bylo nejdražší ?

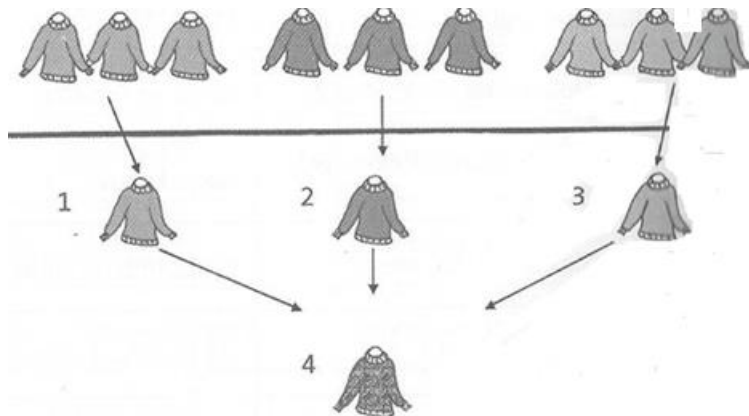
- a) Menu z 1. března bylo levnější než z 5. dubna
- b) Menu z 10. února bylo dražší než z 20. května
- c) Menu z 1. března bylo dražší než z 10. února

**Nejdražší menu bylo z 5. dubna.**

**Postup je jednoduchý. I zde je třeba seřadit údaje. Je tedy třeba pouze rozhodnout mezi 5. dubnem a 10. únorem. 1. březen byl ale ještě dražší než 10. únor. Správným řešením je tedy 5. dubna.**

#### 5. Poradíte si s tímto matematickým úkolem?

Paní Novotná je velmi spořivá. Vše využívá až do posledního zbytku. Proto si ze tří roztrhaných svetrů uplete jeden nový. Když jsem jí před dlouhou dobou viděl, měla devět svetrů, které si upletla. Dnes má jen jeden, protože si nechtěla dokupovat novou vlnu. Kolik svetrů upletla od našeho posledního setkání?



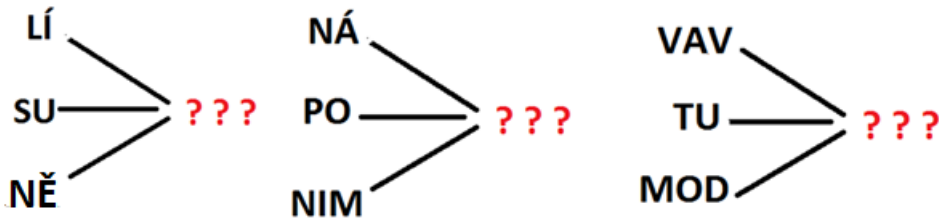
**Paní Nováková upletla 4 svetry.**

#### 6. Jak zní citát Pearl S. Buckové ?

KM UN LO FZ ÍJ | HL ZI ID BÉ | OP RB LO EM SE ŠI KA AP MJ ÍT | BM AS LZ ÉG  
BŠ HT ÚĚ AS TO SÍ, | PH RV WO TC OŠ UŽ EŠ | SB TÍ QÁ VL ES | MĚ GA ĚR VN VĚ  
JČ ES DK RA NJ ÍM | NM AO | VB RE TL HK ÉJ.

**Mnozí lidé promeškají malé štěstí protože stále marně čekají na velké.**

7. Doplnování konce slov. Nahraďte každý otazník písmenem tak, aby s každou předponou tvořily smysluplný výraz.



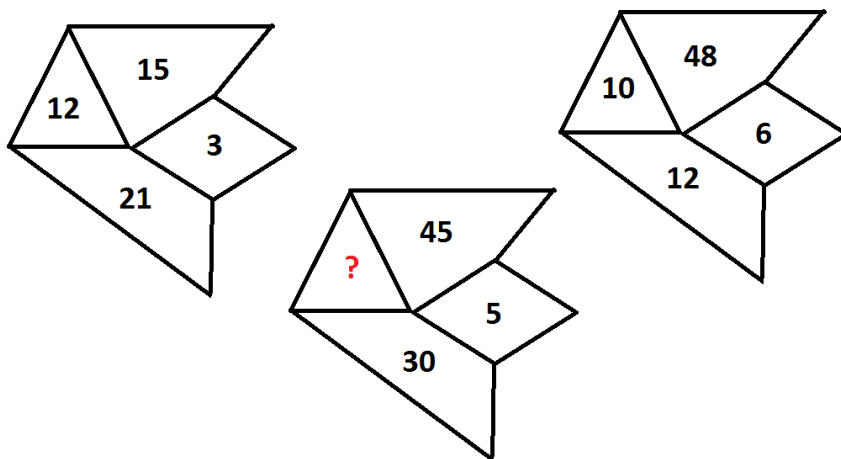
LÍMEC, SUMEC, NĚMEC  
NÁROD, POROD, NIMROD  
VAVŘÍN, TUŘÍN, MODŘÍN

8. Přeložte následující známé české přísloví z vědeckého jazyka zpátky do srozumitelného českého tvaru.

*Při zjištění zaměrného transportu části horniny od občana A k občanu B je posledně jmenovaný povinen uskutečnit zpětný přesun po stejné dráze, tedy v opačném směru, k prvně jmenovanému, avšak s použitím žitného pečiva.*

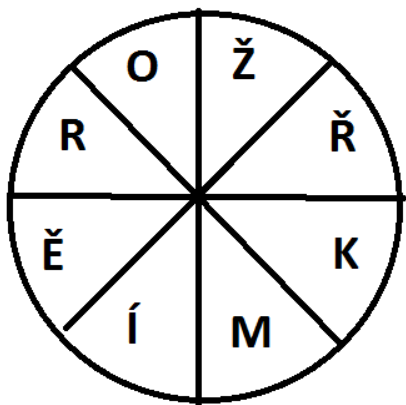
**Kdo po tobě kamenem, ty po něm chlebem.**

9. Jaké číslo dosadíte místo otazníku?

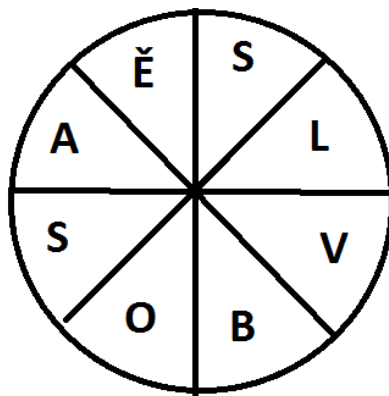


15;  $45 + 30 = 75$ ;  $75 : 15 = 5$

10. V kruzích jsou ukryta města ČR. Název získáte spojením čtyř písmen a jejich protějšku v protilehlé kruhové výseči. Směr není nějak daný.



**KROMĚŘÍŽ**



**SOBĚSLAV**

**11. Poznáte podle následujících obrázků český film, která znázorňují?**

Jeden řádek vždy představuje jeden český film.



**Čtyři vraždy stačí drahoušku**



**Jedna ruka netleská**



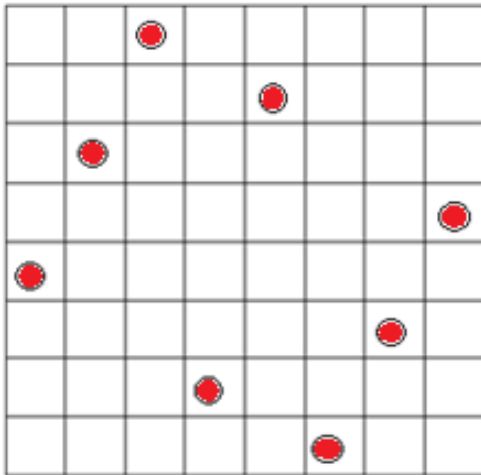
**Vrchní prchni**

**12. Doplňte do citátů chybějící písmena**

„\_i\_io\_y l\_dí t\_ží p\_ n\_s\_r\_el\_o\_ti a \_ři\_om n\_v\_dí, c\_ ma\_í \_ěl\_t,  
kd\_ž v n\_dě\_i o\_p\_l\_d\_e p\_ší“. Susan Ertz

**„Miliony lidí touží po nesmrtelnosti, a přitom nevědí, co mají dělat, když v neděli odpoledne prší. „ Susan Ertz**

13. Zakreslete do herního plánu 8 bodů tak, aby žádné dva body neležely na stejné vodorovné, svislé ani diagonální přímce.



14. Osmisměrka skrývá názvy deseti zaměstnání. Najdete je?

Z	A	P	R	Z	J	L	I	M	O	P	B	Y
E	K	O	Z	A	H	R	A	D	N	Í	K	A
M	I	H	I	R	P	T	S	F	M	L	O	S
Ě	N	L	I	Z	K	E	M	N	A	D	Ů	L
D	T	E	L	E	A	X	K	O	L	Č	K	Á
Ě	E	J	E	D	E	U	C	A	Í	T	K	D
L	R	E	S	N	Ž	J	B	L	Ř	L	A	E
E	N	I	D	Í	K	A	T	Ú	E	H	Č	K
C	I	G	E	K	O	N	O	M	U	J	V	Ř
E	S	Í	H	V	V	E	P	O	L	E	O	W
A	T	D	S	C	Á	Í	A	S	Ě	I	Č	Y
B	A	K	F	A	Ř	O	Ň	F	G	I	O	Z
A	J	Ů	A	K	Č	Í	Š	N	Í	K	S	D
H	O	D	N	Ě	♥	Š	T	Ě	S	T	Í	♥