

# Kvíz 13-19.4

1, Spojte vlajky se státy a hlavním městem a mapou dané země.



Brazílie

Kyjev



Ukrajina

Rijád



Severní Korea

Brasília



Saúdská Arábie

Pchjongjang



2, Z číslic a slov se stavte slovo.

Vě 3 t .....

100 pka .....

O 2 ký .....

0,5 měsíc .....

Zatá 5 .....

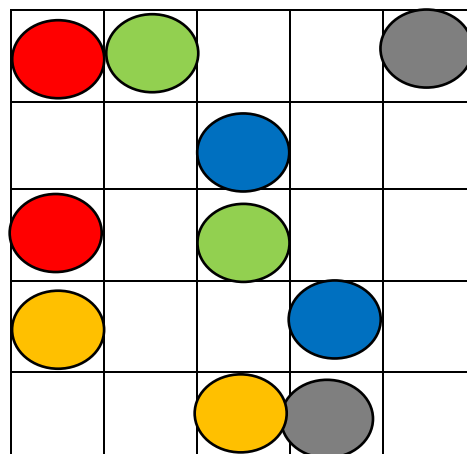
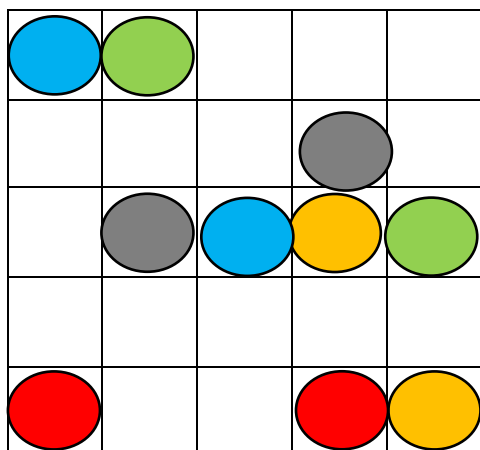
8 ium .....

NAPADÁ VÁS DALŠÍ SLOVA JEJICHŽ ČÁST JE ČÍSLO?

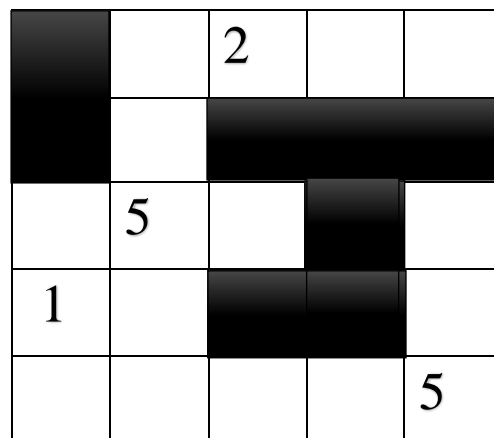
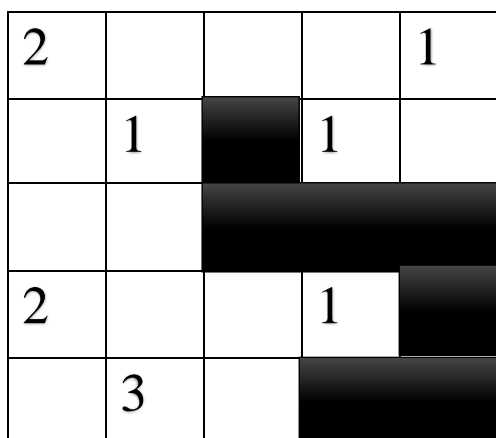
.....

.....

3, Propojte barvy tak, aby všechny pole byly obsazené a zároveň se čáry nekřížily.



4, Z jednotlivých čtverců ved'te kolmice tak, aby byly všechny pole plné. Počet plíček, které lze z políček vést je uveden v jednotlivých polích.



# MÝVAL

