

# Kvíz 11-17.5

1, Spojte vlajky se státy a hlavním městem a mapou dané země.



Černá Hora

Brazilská federativní republika

Indonéská republika

Turecká republika  
Ankara



Jakarta

Podgorica

Brasília

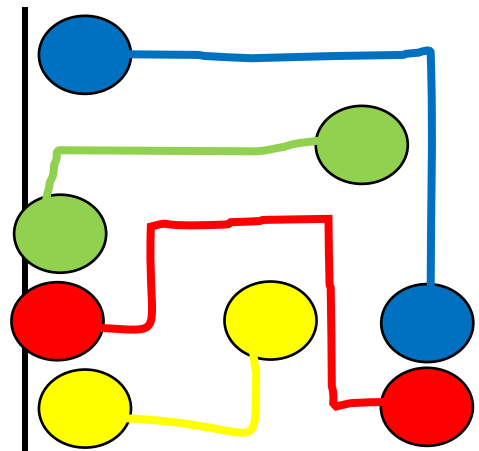
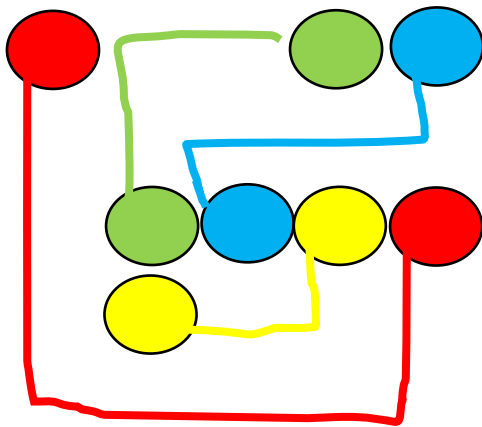


2, Uspořádejte obrazce tak aby vznikl jejich složením čtverec.





3, Propojte barvy tak, aby všechny pole byly obsazené a zároveň se čáry nekřížily.



4, Z jednotlivých čtverců ved'te kolmice tak, aby byly všechny pole plné. Počet plíček, které lze z políček vést je uveden v jednotlivých polích.

